



وزارة التربية
إدارة الشؤون التعليمية
مراقبة الامتحانات وشؤون الطلبة



نموذج الإجابة
المرحلة المتوسطة
الدور الثاني
المادة : الاجتماعيات
الصف : السابع
العام الدراسي

2016 / 2017



وزارة التربية

العام الدراسي (٢٠١٦م _ ٢٠١٧م)

الزمن : ساعة و ٤٥ دقيقة

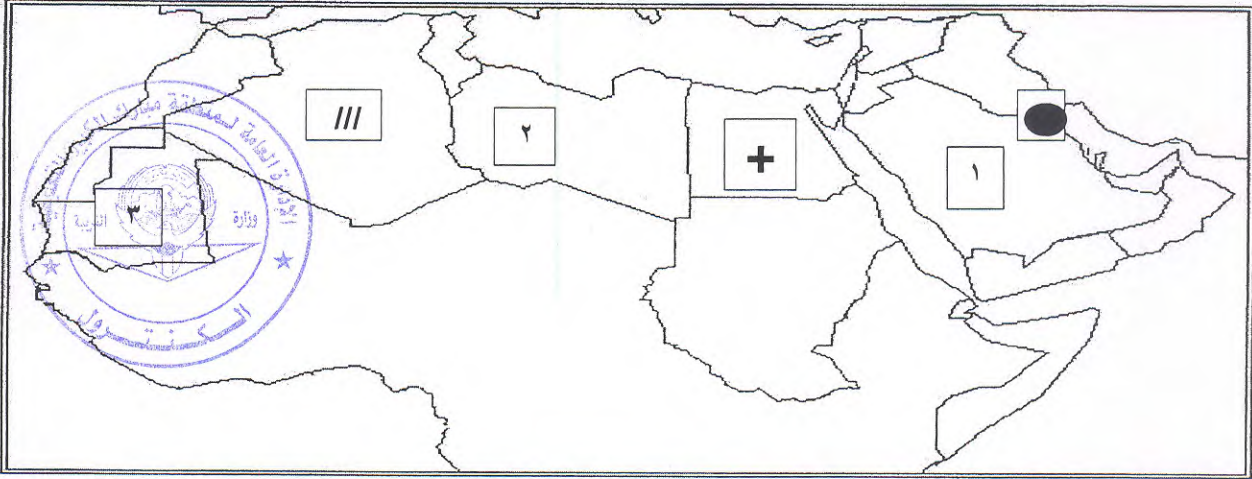
الإدارة العامة لمنطقة مبارك الكبير التعليمية

التوجيه الفني العام للاجتماعيات

((اختبار الدور الثاني للصف السابع الكويت و الوطن العربي)) ((نموذج إجابة))

السؤال الأول موضوعي و يتكون من (أ - ب) لكل نقطة درجة :

أ / أمامك خريطة الوطن العربي الصماء نفذ ما هو مطلوب كالتالي :



١ / أولى دول الوطن العربي انتاجا و احتياطا للنفط تحمل الرقم (١) ص ٩٩

٢ / أولى دول الوطن العربي في أنتاج معدن الحديد تحمل الرقم (٣) ص ١٠٢

٣ / أكثر الدول العربية سكانا تحمل الرمز (+) ص ٧٤

٤ / أولى دول الوطن العربي انتاجا للمياه المحلاة تحمل الرمز (●) ص ٢٧

ب/ صنف القائمة التالية حسب ما هو مطلوب في الجدول التالي :

(الفخار- النفط - الغذاء - الخوص - الغاز - الخشب)

ص ١١٠ صناعات حرفية	ص ١٠٩ صناعات تحويلية	ص ١٠٨ صناعات استخراجية
<u>الفخار</u>	<u>الغذاء</u>	<u>النفط</u>
<u>الخوص</u>	<u>الخشب</u>	<u>الغاز</u>

٤

٦



السؤال الثاني موضوعي و يتكون من (أ- ب) لكل نقطة درجة :

أ/ اختر الاجابة الصحيحة من بين البدائل التالية :

١/ قوى محركة للآلات و عنصر مهم للتقدم و التطور الاقتصادي في جميع المجالات تسمى :

(الصناعة _ الطاقة _ التنمية _ المعادن) ص ٩٧

٢/ الدولة العربية التي يمر بها نهر المجردة هي :

(تونس _ السودان _ الجزائر _ ليبيا) ص ١٢٥

٣/ يطلق على الغلات الصناعية و التجارية اسم : ص ٨٥

(الغلات النقدية _ الغلات التجارية _ الغلات الزراعية _ الغلات الرعوية)

٤/ تقع محمية العرين في دولة خليجية تسمى : ص ١٣٢

(عمان _ البحرين _ السعودية _ الكويت)

٥/ تأسس الصندوق الكويتي للتنمية الاقتصادية العربية في عهد الشيخ : ص ١٤٤

(مبارك الصباح _ عبدالله السالم _ صباح السالم _ جابر الأحمد)



ب/ ظلل المربع الذي (لا ينتمي) في كل عبارة مما يلي :

١/ مقومات الإنتاج الزراعي الطبيعية هي : ص ٨٣

التربة	<u>رأس المال</u>	الماء	المناخ
--------	------------------	-------	--------

٢/ يمتلك الوطن العربي أنواع كبيرة من الثروة الرعوية مثل : ص ٩١

الأبقار	الأبل	الأغنام	<u>الدواجن</u>
---------	-------	---------	----------------

٣/ الحبوب الغذائية في الوطن العربي هي : ص ٨٤

<u>الحمضيات</u>	الذرة	القمح	الأرز
-----------------	-------	-------	-------

٤/ أنواع التلوث هي : ص ١٣٠

هواء	ماء	تربة	<u>تصحّر</u>
------	-----	------	--------------

٥/ تتنوع الثروة المائية في الوطن العربي مثل : ص

الاسفنج	المرجان	<u>الرصاص</u>	اللؤلؤ
---------	---------	---------------	--------



السؤال الثالث: موضوعي و يتكون من (أ - ب - ج) لكل نقطة درجة :

أ / أكمل المخططات السهمية التالية :

١/ التنمية في الوطن العربي : ص ١٣٦


تنمية مستدامة

تنمية بشرية

تنمية اقتصادية

٢/ طرق النقل في الوطن العربي : ص ١١٣

جوية



مائية

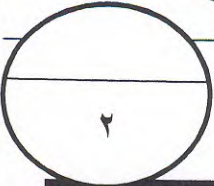
برية

٣/ أسباب التصحر : ص ١٢٢

طبيعية




بشرية



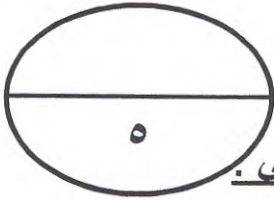
ب/ اكتب تعليقا مناسباً أسفل كل صورة : ص



الاسراف في استخدام المبيدات الحشرية
يؤدي الى تلوث التربة .



انتشار الدخان و عدم السيارات يؤدي
الى التلوث الهوائي .



تابع السؤال الثالث ج/ لاحظ الصور و الرسومات التالية ثم أجب عما يلي .




١/ صاحب فكرة انشاء الصندوق الكويتي للتنمية الاقتصادية

العربية هو الشيخ جابر الأحمد الجابر الصباح ص ١٤٤



٢/ أولى دول الوطن العربي في انتاج محصول الموز

تسمى الصومال ص ٨٧



٣/ منظمة عربية تدعو الى القضاء على الأمية

في العالم تسمى المنظمة العربية للتربية و الثقافة

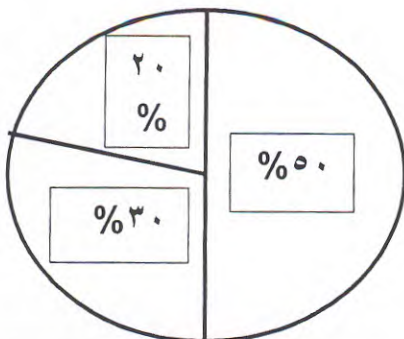
و العلوم (ألكسو) ص ١٤٣



٤/ أولى دول الوطن العربي في انتاج

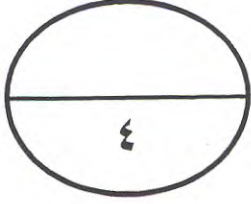
و زراعة محصول البن تسمى

اليمن ص ٨٦



٥/ تبلغ نسبة القطاع الزراعي

في الوطن العربي ٥٠% ص ٨٢



السؤال الرابع مقالتي و يتكون من (أ - ب) لكل نقطة درجة :

أ / علل لما يأتي (اذكر السبب) :

١/ يطلق على الغاز الطبيعي اسم الطاقة النظيفة . ص ١٠٠

لا ينتج عن احتراقه ظهور الملوثات التي تنتج عن احتراق المنتجات النفطية

٢/ تنوع الثروة المائية في الوطن العربي. ص ٩٣

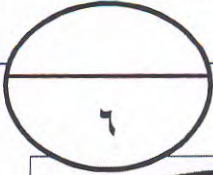
لان دول الوطن العربي بحرية لها سواحل و مسطحات مائية واسعة منها المالحة و العذبة

٣/ تحتل الأغنام العربية مكانة مهمة ضمن الثروة الرعوية في الوطن العربي . ص ٩٢

الأكثر انتشارا في المراعي العربية / أكثر الحيوانات المستأنسة ملائمة لمراعي الوطن العربي و تحملها الجفاف و الانتقال و اهمية منتجاتها للسكان و مصدر أساسي من مصادر الثروة القومية

٤/ تدني وفرة المياه في الوطن العربي . ص ١٢٦

النمو السريع للسكان / ٥٠% من المياه في العالم العربي تأتي من خارج حدوده / الطرق التقليدية في استغلال المياه / الشبكات المؤهلة لنقل المياه قديمة / لا يوجد في أي دولة عربية برامج لإدارة المياه كما لا تستخدم الأدوات الاقتصادية اللازمة لترشيد استخدام المياه



ب/ قارن بين منظمتي أوبك و أوابك من حيث : ص ١٠٤ - ١٠٥

		وجه المقارنة
<u>منظمة الدول العربية المصدرة للنفط</u>	<u>منظمة الدول المصدرة للنفط</u>	المفهوم
<u>الكويت</u>		المقر
<u>١٩٦٨ م</u>	<u>١٩٦٠ م</u>	سنة التأسيس

السؤال الخامس: مقالتي و يتكون من (أ- ب) لكل نقطة درجة :

أ/ اكتب نقطتين فيما يلي :

١/ العقبات التي تواجه الانتاج الزراعي في الوطن العربي . ص ١٢١

عدم استغلال الاراضي القابلة للزراعة لندرة المياه و الامطار / اتباع طرق الزراعة التقليدية / زحف الرمال التصحر و انجراف التربة / الرعي الجائر رعي غير منظم يحول المراعي الى اراضي جرداء /

تلوث التربة نتيجة الاسراف في استخدام المبيدات و ارتفاع نسبة الملوحة في التربة .

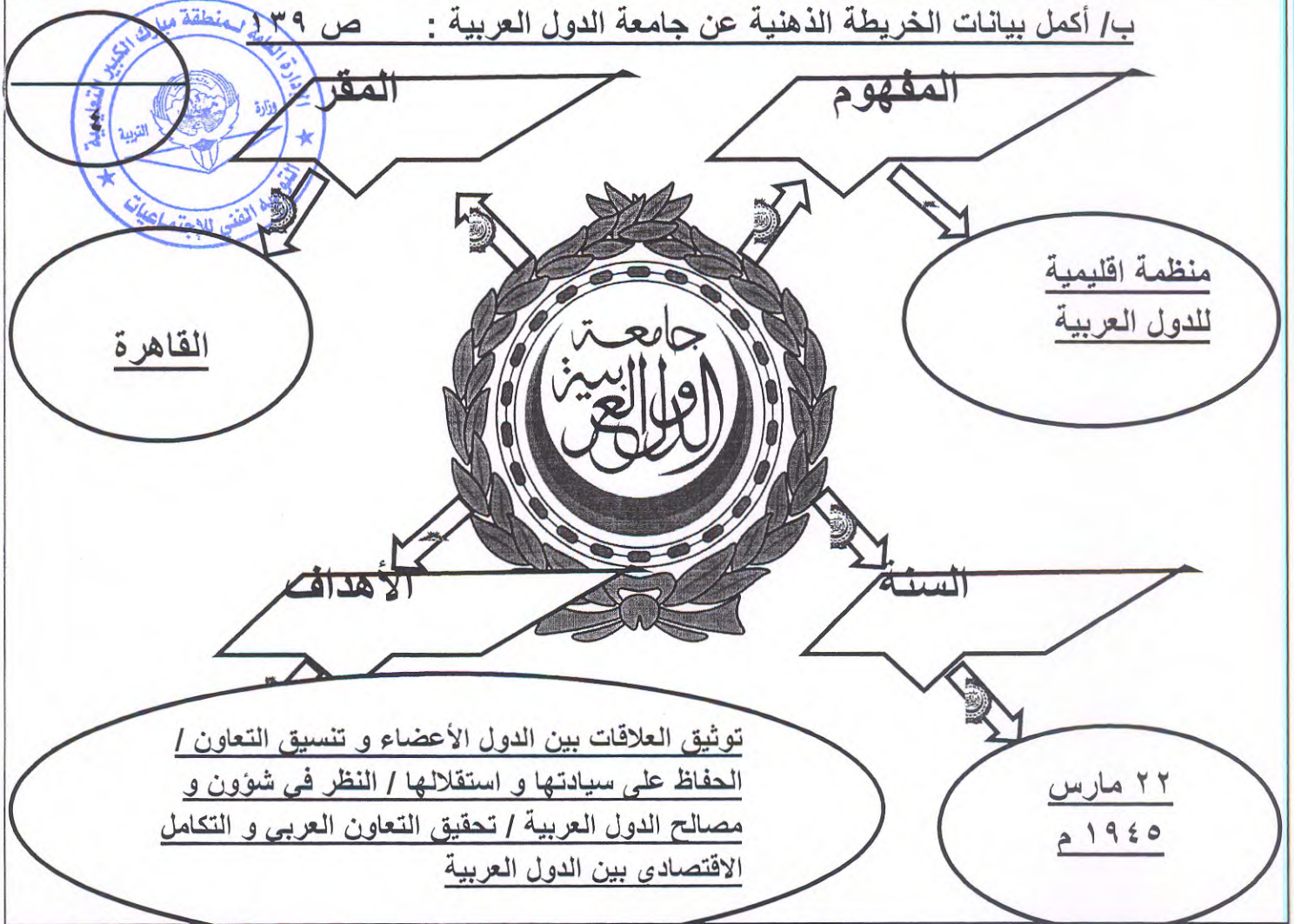
٢/ علاج مشكلة التصحر . ص ١٢٣

يتطلب تشجير بعض المناطق (اقامة احزمة خضراء) / مصدات للرياح لحماية المزروعات من زحف الرمال / استخدام طرق ري حديثة و تثبيت الكثبان الرملية و المحميات الطبيعية

٣/ أهداف الصناعات البتروكيمياوية . ص ١١١

تنوع مصادر الدخل للدول المنتجة / توفير المواد الاولية للصناعات التحويلية لتأمين حاجات القطاعات الاستهلاكية / تطوير الصناعة في الوطن العربي حيث تحتاج الصناعات البتروكيمياوية الى تقنيات متخصصة و عالية .

ب/ أكمل بيانات الخريطة الذهنية عن جامعة الدول العربية : ص ١٣٩



السؤال السادس مقالى و يتكون من (أ - ب) لكل نقطة درجة :

أ / أقرأ الفقرة التالية ثم أجب عما يليها من اسئلة : ص ٩٧

(يعد النفط و الغاز الطبيعي من اهم مصادر الطاقة التي تقوم عليها صناعات مهمة فهما بالنسبة لاقتصاد الدول العربية قوة محرّكة للالات و المصانع و مصدر لرؤوس الاموال و مادة خام للعديد من الصناعات المهمة .)

١ / عرف ما تحته خط: الغاز الطبيعي: غاز مصاحب للنفط الخام او يتواجد منفردا تتم اسالته لاستخدامات عديدة.

٢ / علل: اهمية النفط و الغاز الطبيعي بالنسبة لاقتصاد الدول العربية.

* قوة محرّكة للالات و المصانع / مصدر لرؤوس الاموال /مادة خام للعديد من الصناعات/ اساس لمشاريع التنمية و العمران.

٣ / كم تبلغ نسبة انتاج النفط بالجنح الاسيوي؟ ٩٨ ص

٨٠ %

ب / فرق بين كل من :

<p>التوازن البيئي ص ١٣٣</p> <p>بقاء عناصر البيئة الطبيعية فى حالة من التوازن لتؤدى وظائفها على اكمل وجه</p>	<p>التلوث ص ١٣٠</p> <p>هو الضرر الذى يلحق بالتربة و الهواء و الماء</p>	١
<p><u>زيادة غير طبيعية</u></p> <p>ص ٨٠</p> <p>هى الزيادة الناتجة عن الهجرة .</p>	<p><u>زيادة طبيعية</u></p> <p>ص ٨٠</p> <p>هى الفرق بين معدل المواليد و معدل الوفيات</p>	٢
<p>النمو السكاني ص ٧٩</p> <p>تزايد عدد السكان من عام لآخر نتيجة للزيادة الطبيعية للسكان زيادة معدل المواليد على معدل الوفيات و الهجرة</p>	<p>الكثافة السكانية ص ٧٥</p> <p>نسبة عدد السكان الكلى فى دولة ما او منطقة الى المساحة المطلقة لهذه الدولة او المنطقة</p>	٣

(مع تمنياتنا لكم بالنجاح و التوفيق)